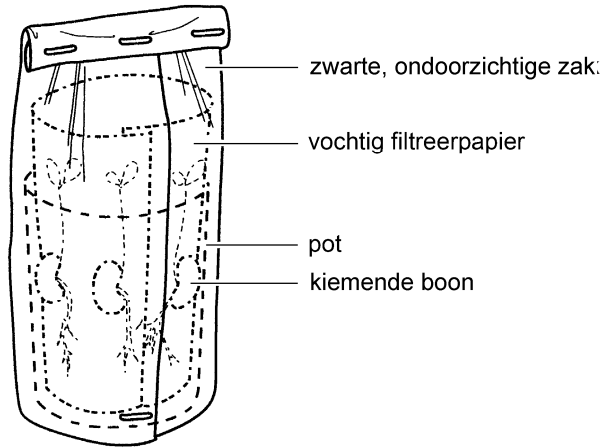


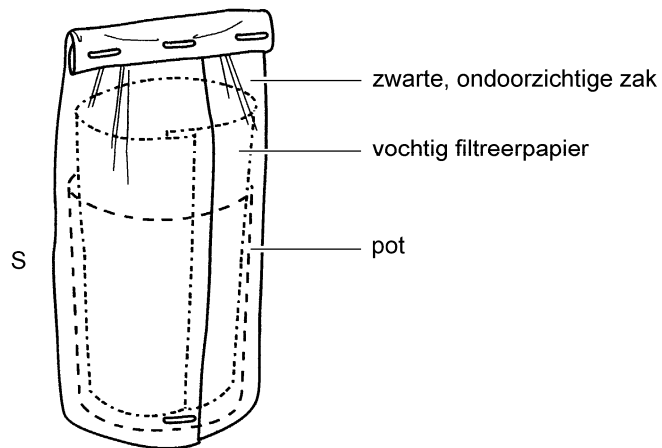
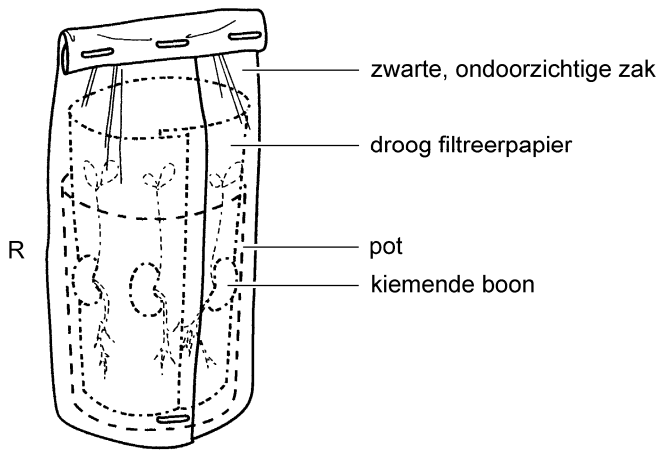
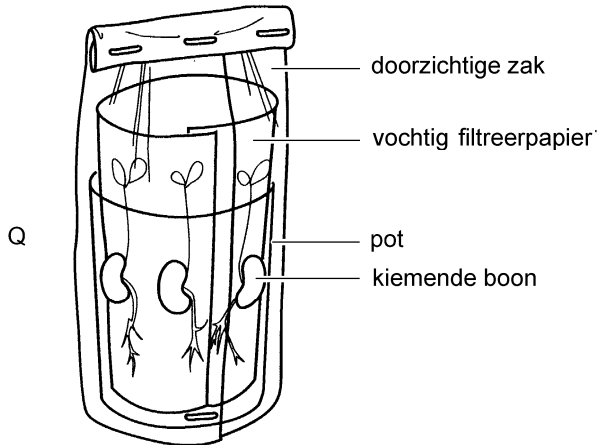
Een proef

Bas onderzoekt de invloed van licht op de groei van kiemplantjes. Hij stopt een aantal gekiemde bruine bonen in een pot met vochtig filterpapier.

De pot zet hij in een zwarte, ondoorzichtige zak (zie de afbeelding).



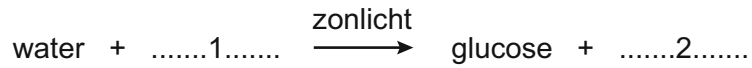
1p 11 Bij de bespreking zegt zijn docent dat hij de controleproef mist. Hieronder zie je drie mogelijkheden voor een controleproef.



Welke letter geeft de juiste controleproef aan voor het onderzoek van Bas?

- A letter Q
- B letter R
- C letter S

- 2p 12 Bas schrijft in zijn onderzoeksverslag dat licht nodig is voor fotosynthese. Het schema hieronder geeft de fotosynthese weer.



→ Wat moet op plaats 1 en op plaats 2 ingevuld worden om het schema compleet te maken?

Schrijf je antwoord zó op:

1 =

2 =